

Pitanje: 1/34

Koja od nabrojanih površina je put?

Ulica

Pešačka staza

Pitanje: 2/34

Koja od nabrojanih površina je put?

Biciklistička staza

Zemljani put

Pitanje: 3/34

Koje od navedenih uslova mora ispunjavati autoput?

Put koji ima najmanje dve saobraćajne trake po smeru i jednu zaustavnu traku za svaki smer

Put kod kojeg su kolovozne trake za saobraćaj iz suprotnih smerova fizički odvojene

Državni put kod koga sva ukrštanja sa drugim putevima i železničkim ili tramvajskim prugama nisu izvedena u istom nivou

Pitanje: 4/34

Put bez izgrađenog kolovoznog zastora, pa i kada na priključku na drugi put ima izgrađen kolovozni zastor je:

zemljani put

Pitanje: 5/34

Koje od navedenih uslova mora ispunjavati autoput:

državni put namenjen isključivo za saobraćaj motocikala, putničkih vozila, teretnih vozila i autobusa, sa ili bez priključnih vozila

put sa potpunom kontrolom pristupa, na koji se može uključiti ili isključiti samo određenim i posebno izgrađenim javnim putem

put koji je kao takav obeležen propisanim saobraćajnim znakom

Pitanje: 6/34

Koje od navedenih uslova mora ispunjavati motoput:

državni put namenjen isključivo za saobraćaj motocikala, putničkih vozila, teretnih vozila i autobusa, sa ili bez priključnih vozila

put koji je kao takav obeležen propisanim saobraćajnim znakom

Pitanje: 7/34

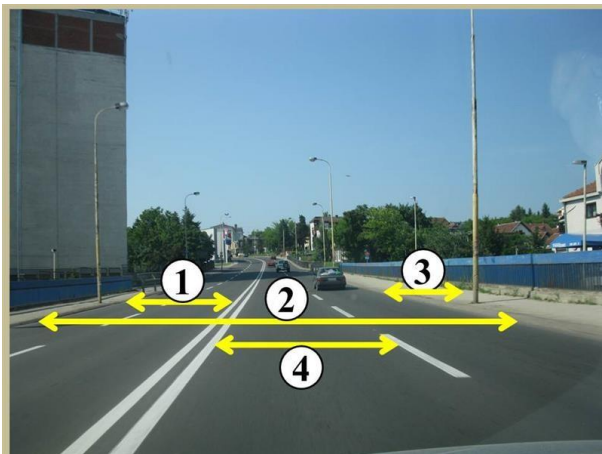
Koje od navedenih uslova mora ispunjavati motoput:

put koji se kao takav obeležen propisanim saobraćajnim znakom

državni put namenjen isključivo za saobraćaj motocikala, putničkih vozila, teretnih vozila i autobusa, sa ili bez priključnih vozila

Pitanje: 8/34

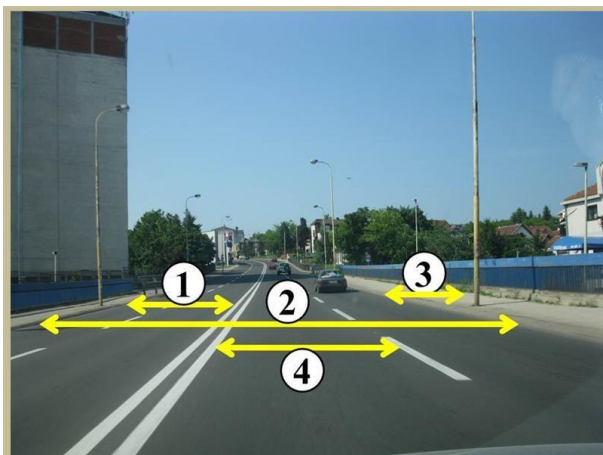
Kolovoz je na slici označen brojem:



2

Pitanje: 9/34


Kolovozna traka je na slici označena brojem:



1

Pitanje: 10/34

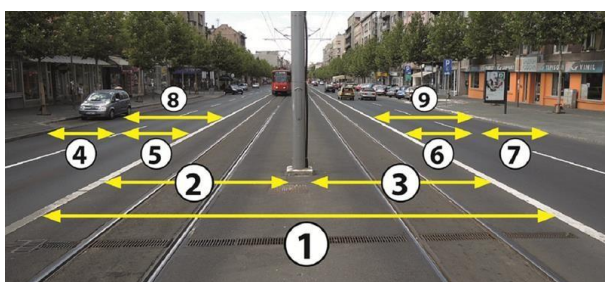
Saobraćajne trake, na autoputu, su na slici označene brojevima:



4 i 5 2 i 3

Pitanje: 11/34

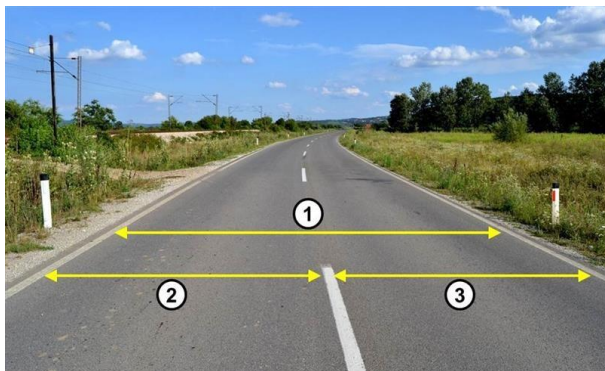
Saobraćajna traka je na slici označena brojevima:



5 i 6 4 i 7

Pitanje: 12/34

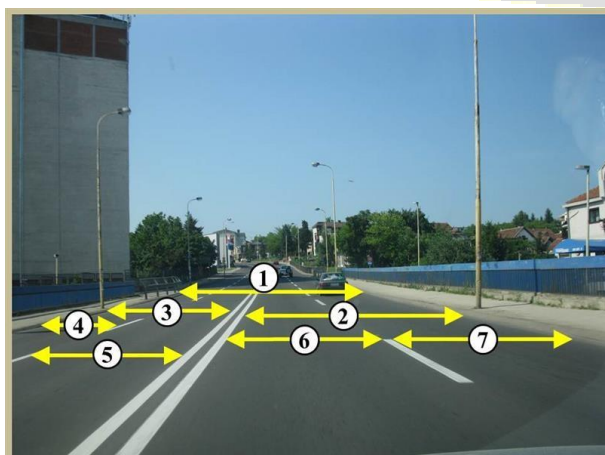
Saobraćajne trake na slici su označene brojevima:



2 i 3

Pitanje: 13/34


Saobraćajna traka je na slici označena brojevima:



6 i 7 4 i 5

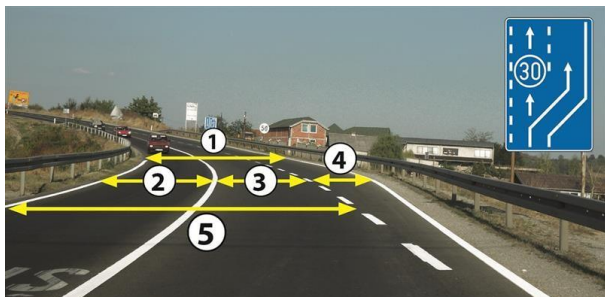
Pitanje: 14/34

Biciklistička traka je na slici označena brojem:



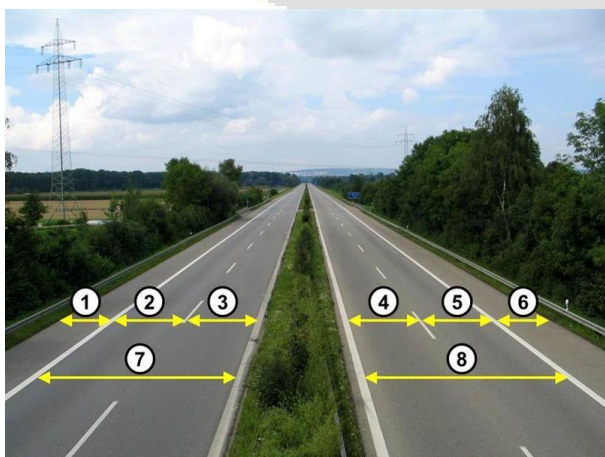
3

Saobraćajna traka za spora vozila je na slici označena brojem:




4

Zaustavna traka je na slici označena brojevima:




1 i 6

Saobraćajna traka za uključivanje je na slici označena brojem:



1

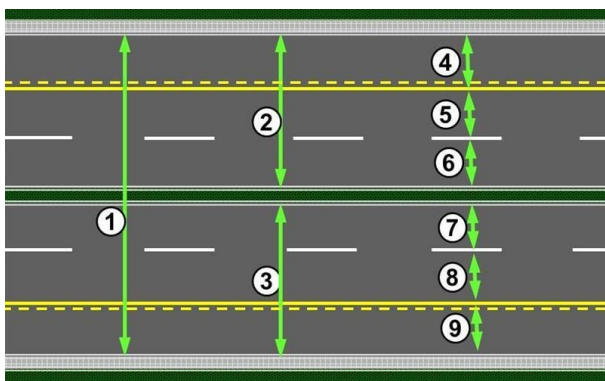
Saobraćajna traka za isključivanje je na slici označena brojem:



4

Pitanje: 19/34

Saobraćajna traka za vozila javnog prevoza putnika na slici je označena brojevima:



4 i 9

Pitanje: 20/34

Raskrsnica je:

deo kolovoza na kome se ukrštaju, spajaju ili razdvajaju putevi u istom nivou

Pitanje: 21/34


Tramvajska baštica je na slici označena brojem:



2

Pitanje: 22/34

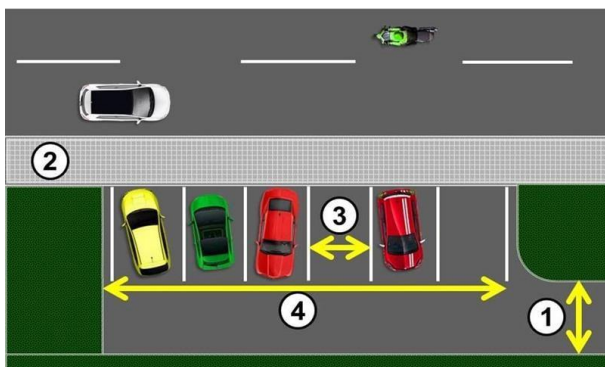
Trotoar je na slici označen brojevima:



1 i 5

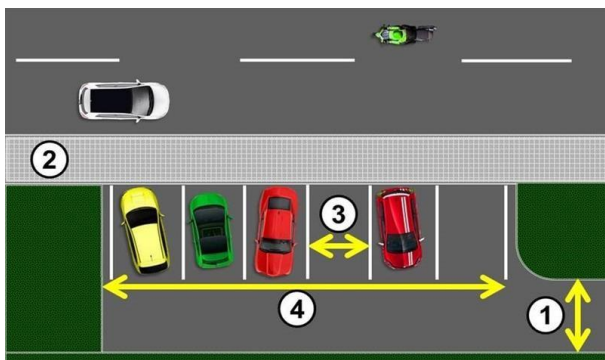
Pitanje: 23/34

Parkiralište je na slici označeno brojem:



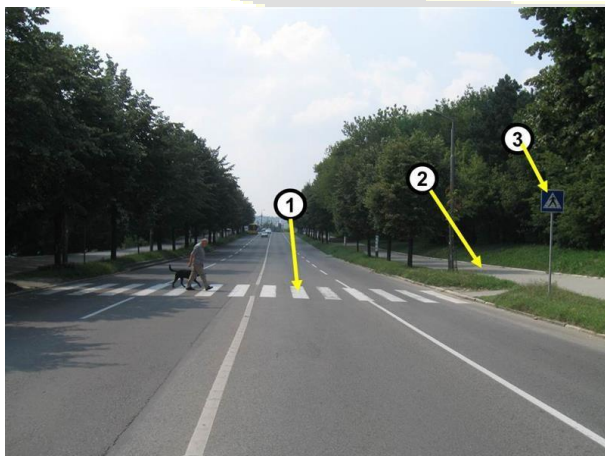
4

Parking mesto je na slici označeno brojem:




3

Pešački prelaz je na slici označen brojem:



1


Pešački prelaz na slici je označen brojem:



4

Pitanje: 27/34

Pešačka staza na slici je označena brojem:



3

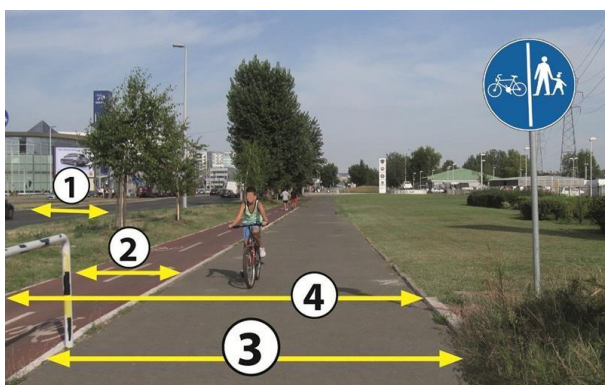
Pitanje: 28/34

Biciklistička staza je:

put namenjen isključivo za kretanje bicikala

Pitanje: 29/34

Biciklistička staza na slici je označena brojem:



2

Pitanje: 30/34

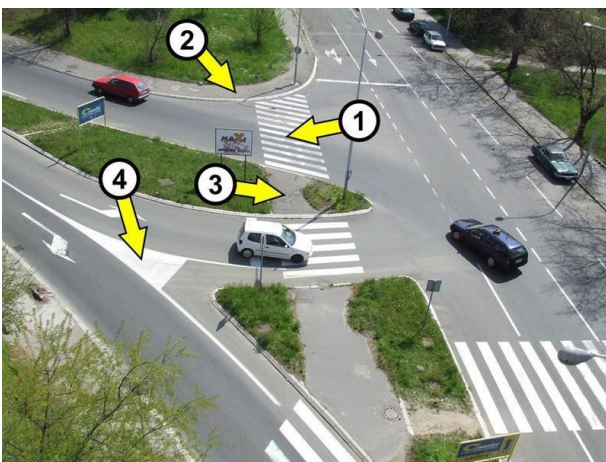
Slika prikazuje:



prelaz puta preko železničke pruge

Pitanje: 31/34


Pešačko ostrvo je na slici označeno brojem:



3

Pitanje: 32/34

Od saobraćajnog znaka prikazanog na slici počinje:



naselje

Pitanje: 33/34

Od saobraćajnog znaka prikazanog na slici se završava:



naselje

Pitanje: 34/34

Biciklistička traka je:

saobraćajna traka namenjena isključivo za saobraćaj bicikala, mopeda i lakih tricikala