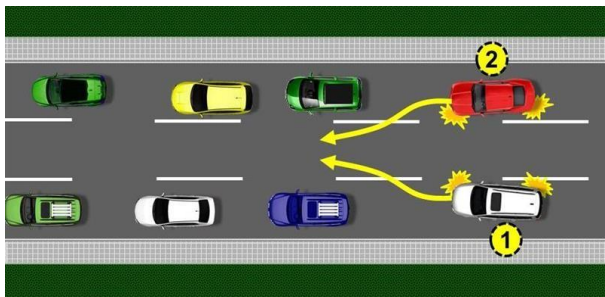


Pitanje: 1/33


U situaciji prikazanoj na slici prednost ima:



vozač vozila označenog brojem 2

Pitanje: 2/33

U situaciji prikazanoj na slici prednost ima:



vozač vozila označenog brojem 2

Pitanje: 3/33

Vozač vozila koji na raskrsnici skreće ulevo:

dužan je da propusti vozilo koje, dolazeći iz suprotnog smera na raskrsnici zadržava pravac kretanja ili skreće udesno, ako saobraćajnim znakom nije drugačije određeno

Pitanje: 4/33

U situaciji prikazanoj na slici:



dužni ste da propustite oba vozila

Pitanje: 5/33

U situaciji prikazanoj na slici:



dužni ste da propustite oba vozila.

Pitanje: 6/33

U situaciji prikazanoj na slici:



imate prvenstvo prolaza u odnosu na putničko vozilo

Pitanje: 7/33

U situaciji prikazanoj na slici:



imate pravo prvenstva prolazau odnosu na vozilo koje skreće ulevo

Pitanje: 8/33

Na raskrsnici ili u susretu sa tramvajem, vozač:

je dužan da propusti tramvaj u svim slučajevima, ako saobraćajnim znakom nije drugačije određeno

Pitanje: 9/33

U situaciji prikazanoj na slici:



dužni ste da propustite tramvaj, a imate prvenstvo prolaza u odnosu na putničko vozilo

Pitanje: 10/33

U situaciji prikazanoj na slici, vozač putničkog vozila:



ima prvenstvo prolaza u odnosu na traktor sa uključenim žutim rotacionim ili trepćućim svetlom

Pitanje: 11/33

U situaciji prikazanoj na slici:



dužni ste da propustite vozilo koje Vam dolazi sa leve strane

Pitanje: 12/33

U situaciji prikazanoj na slici vozač putničkog vozila:



dužan je da propusti autobus koji dolazi sa njegove leve strane

Pitanje: 13/33

U situaciji prikazanoj na slici vozač autobusa:



ima prvenstvo prolaza u odnosu na putničko vozilo koje dolazi sa njegove desne strane

Pitanje: 14/33

U situaciji prikazanoj na slici:



imate prvenstvo prolaza u odnosu na vozilo koje Vam dolazi sa leve strane

Pitanje: 15/33

U situaciji prikazanoj na slici vozač teretnog vozila:



ima prvenstvo prolaza u odnosu na putničko vozilo

Pitanje: 16/33

U situaciji prikazanoj na slici:



vozač teretnog vozila ima prvenstvo prolaza u odnosu na putničko vozilo

Pitanje: 17/33

U situaciji prikazanoj na slici:



dužni ste da propustite oba vozila

Pitanje: 18/33

Vozač vozila koje se sa zemljanog puta uključuje na put sa savremenim kolovoznim zastorom:

dužan je da propusti sva vozila koja se kreću putem na koji se uključuje i kada taj put nije saobraćajnim znakom označen kao put sa prvenstvom prolaza

Pitanje: 19/33

U situaciji prikazanoj na slici:



dužni ste da propustite oba vozila

Pitanje: 20/33

U situaciji prikazanoj na slici:



imate prvenstvo prolaza u odnosu na oba vozila

Pitanje: 21/33

U situaciji prikazanoj na slici:



dužni ste da propustite bicikl

Pitanje: 22/33

U situaciji prikazanoj na slici vozači vozila:



dužni su da propuste bicikl

Pitanje: 23/33

Na raskrsnici ili u susretu sa drugim vozilom, vozač je:

dužan da propusti vozilo koje dolazi sa njegove desne strane

Pitanje: 24/33

Vozač koji pri skretanju preseca biciklističku stazu:

dužan je da propusti vozila koja se kreću biciklističkom stazom

Pitanje: 25/33

Vozač koji pri skretanju preseca biciklističku traku:

dužan je da propusti vozila koja se kreću biciklističkom trakom

Pitanje: 26/33

U situaciji prikazanoj na slici, gde svako od vozila na raskrsnici ima prvenstvo prolaza u odnosu na vozilo koje mu dolazi sa leve strane, postupanje kojim ćete omogućiti bezbedan prolazak kroz raskrsnicu je da:



vizuelnim kontaktom i davanjem odgovarajućeg znaka rukom omogućite prolaz vozaču crvenog vozila koje ima prednost u odnosu na belo vozilo i propustite traktor

Pitanje: 27/33

U situaciji prikazanoj na slici:



dužni ste da propustite oba vozila

Pitanje: 28/33

U situaciji prikazanoj na slici:



dužni ste da propustite oba vozila

Pitanje: 29/33


U situaciji prikazanoj na slici:



dužni ste da propustite oba vozila

Pitanje: 30/33

U situaciji prikazanoj na slici:



dužni ste da propustite tramvaj, a imate prvenstvo prolaza u odnosu na putničko

Pitanje: 31/33

U situaciji prikazanoj na slici:



imate prvenstvo prolaza u odnosu na oba vozila

Pitanje: 32/33

U situaciji prikazanoj na slici:



dužni ste da propustite oba vozila

Pitanje: 33/33

U situaciji prikazanoj na slici:



dužni ste da propustite tramvaj, a imate prvenstvo prolaza u odnosu na putničko vozilo